

**SSC  
GD**

**Previous Year Paper  
18 Nov 2021 Shift 3**

---

# Constable GD in CAPFs NIA SSF and Rifleman GD in Assam Rifles Examination 2021

Roll Number	
Candidate Name	
Venue Name	Indian Institute Of Computer Education - CENTER 2
Exam Date	18/11/2021
Exam Time :	4:00 PM - 5:30 PM
Subject	Constable GD 2021

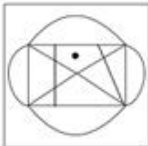
## Section : Part A General Intelligence and Reasoning

Q.1 Select the option in which the given figure is embedded (rotation is NOT allowed).

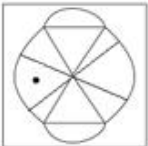


Ans

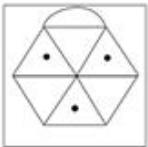
✗ 1.



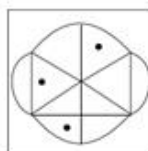
✗ 2.



✗ 3.



✓ 4.



Question ID : 65497832788

Status : Answered

Chosen Option : 4

Q.2 Study the given pattern carefully and select the number that can replace the question mark (?) in it.

64 12 27  
216 ? 343  
512 40 125

- Ans  1. 64  
 2. 72  
 3. 42  
 4. 95

Question ID : 65497832795  
Status : Answered  
Chosen Option : 3

Q.3 Two different positions of the same dice marked with the numbers I, II, III, IV, V and VI are shown.  
Select the number that will be on the face opposite to the face having the number 'IV'.



- Ans  1. III  
 2. II  
 3. V  
 4. VI

Question ID : 65497832787  
Status : Answered  
Chosen Option : 1

Q.4 In a certain code language, 'SLAM' is coded as '5736339', and 'TOY' is coded as '604575'.  
How will 'CLEAR' be coded in that language?

- Ans  1. 93612651  
 2. 93618357  
 3. 93615354  
 4. 63915354

Question ID : 65497832806  
Status : Answered  
Chosen Option : 3

Q.5 Select the letter-cluster from among the given options that can replace the question mark (?) in the following series.

UKT, PFO, KAJ, ?

- Ans  1. GHM  
 2. FVE  
 3. EVO  
 4. FEQ

Question ID : 65497832798  
Status : Answered  
Chosen Option : 2

**Q.6** Rohit donates 15% of his monthly income to charity funds. The remaining income is spent in the following manner: 35% on food, 20% on rent, 17% on bills, 8% on clothing, and the remaining is kept as savings. If the amount saved each month is ₹14,620, then what is Rohit's monthly income?

- Ans**
- 1. ₹86,000
  - 2. ₹75,300
  - 3. ₹82,000
  - 4. ₹73,100

Question ID : 65497832796  
 Status : Answered  
 Chosen Option : 1

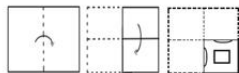
**Q.7** In an imaginary mathematical system, symbol '-' stands for addition, symbol '+' stands for division, symbol 'x' stands for subtraction, and symbol '÷' stands for multiplication. What is the value of the following expression?

$$144 \times 35 + 7 \div 12 - 3$$

- Ans**
- 1. 107
  - 2. 43
  - 3. 87
  - 4. 95

Question ID : 65497832786  
 Status : Answered  
 Chosen Option : 3

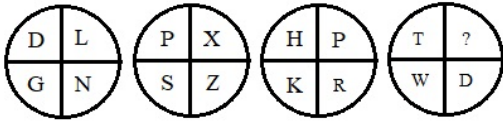
**Q.8** The sequence of folding a piece of paper and the manner in which the folded paper has been cut is shown in the following figures. How would this paper look when unfolded?



- Ans**
- 1.
  - 2.
  - 3.
  - 4.

Question ID : 65497832797  
 Status : Answered  
 Chosen Option : 2

Q.9 Study the given pattern carefully and select the letter that can replace the question mark (?) in it.



- Ans
- 1. A
  - 2. Z
  - 3. B
  - 4. Y

Question ID : 65497832790  
Status : Answered  
Chosen Option : 2

Q.10 In a certain code language, 'CALM' is written as 'DCOQ'. How will 'COOK' be written in that language?

- Ans
- 1. DORQ
  - 2. DPRQ
  - 3. DROQ
  - 4. DQRO

Question ID : 65497832793  
Status : Answered  
Chosen Option : 4

Q.11 Select the option that is related to the third term in the same way as the second term is related to the first term.

INSERT: NIXZTR:: SECOND: ?

- Ans
- 1. ESJDHN
  - 2. EHSDJN
  - 3. ESHJDN
  - 4. EHHJND

Question ID : 65497832802  
Status : Answered  
Chosen Option : 3

Q.12 Identify the number that does NOT belong to the following series.

16, 17, 25, 52, 116, 243



- Ans
- 1. 52
  - 2. 116
  - 3. 25
  - 4. 243

Question ID : 65497832807  
Status : Answered  
Chosen Option : 4

Q.13 Select the Venn diagram that best represents the relationship between the following classes.

Earth, Forest, Trees

Ans



Question ID : 65497832801  
Status : Answered  
Chosen Option : 1

Q.14 Ravali does not have any brother. Girima is the wife of Arjun. Zakir is the husband of Malavi. Chaya is the daughter of Ravali. Fatima is the daughter of Arjun. Malavi is the mother of Ravali. Girima is the maternal aunt of Chaya. How is Girima related to Zakir?

Ans ✓ 1. Daughter

✗ 2. Sister

✗ 3. Daughter-in-law

✗ 4. Sister-in-law

Question ID : 65497832804  
Status : Answered  
Chosen Option : 1

Q.15 'Factory' is related to 'Manufacture' in the same way as 'Kitchen' is related to '\_\_\_\_\_'.

Ans ✓ 1. Cook

✗ 2. Fruits

✗ 3. Plan

✗ 4. Vegetables

Question ID : 65497832799  
Status : Answered  
Chosen Option : 1

Q.16 Four letter-clusters have been given, out of which three are alike in some manner and one is different. Select the one that is different.

- Ans
- 1. LGB
  - 2. MHC
  - 3. FAU
  - 4. ZUP

Question ID : 65497832805  
Status : Answered  
Chosen Option : 3

Q.17 In a certain code language, 'MAGNET' is written as 'HFTIJO'. How will 'CULPRIT' be written in that language?

- Ans
- 1. XZOKINO
  - 2. XZGKMNO
  - 3. XPGUWDO
  - 4. XPQUMNO

Question ID : 65497832803  
Status : Answered  
Chosen Option : 2

Q.18 Select the number from among the given options that can replace the question mark (?) in the following series.

1, 2, 9, 64, ?

- Ans
- 1. 570
  - 2. 225
  - 3. 625
  - 4. 450

Question ID : 65497832791  
Status : Answered  
Chosen Option : 3

Q.19 Select the correct option that indicates the arrangement of the given words in the order in which they appear in an English dictionary.

- i. Monkey
- ii. Money
- iii. Monotony
- iv. Monarch
- v. Monster

- Ans
- 1. iv, iii, i, ii, v
  - 2. iv, ii, i, iii, v
  - 3. ii, i, iv, v, iii
  - 4. i, ii, iii, iv, v

Question ID : 65497832789  
Status : Answered  
Chosen Option : 2

Q.20 Select the correct mirror image of the given combination when the mirror is placed to its right side.

6 T Y G z 2

Ans

1. Z Z Ɔ Y T Ɔ

2. 5 5 Ɔ Y T Ɔ

3. 5 5 Ɔ ʌ T Ɔ

4. Ɔ ʌ Ɔ 5 5

Question ID : 65497832808

Status : Answered

Chosen Option : 2

Q.21 Six friends, P, Q, R, S, T and U, are sitting around a circular table at equal distance between each other, facing the centre. S is sitting between U and Q. P is second to the left of S and second to the right of T. Q is sitting between T and S. Who is sitting opposite to S?

Ans

1. U

2. R

3. P

4. T

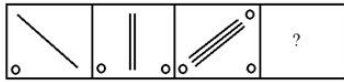
Question ID : 65497832800

Status : Answered

Chosen Option : 2

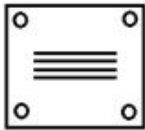


Q.22 Select the figure from among the given options that can replace the question mark (?) in the following series.



Ans

✓ 1.



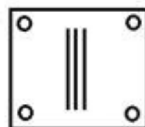
✗ 2.



✗ 3.



✗ 4.



Question ID : 65497832792

Status : Answered

Chosen Option : 1

Q.23 Read the given statements and conclusions carefully. Assuming that the information given in the statements is true, even if it appears to be at variance with commonly known facts, decide which of the given conclusions logically follow(s) from the statements.

Statements:

All fruits are stems.

Some fruits are leaves.

Conclusions:

I. Some stems are leaves.

II. Some leaves are fruits.

Ans ✗ 1. Neither conclusion I nor II follows

✗ 2. Only conclusion I follows

✓ 3. Both conclusions I and II follow

✗ 4. Only conclusion II follows

Question ID : 65497832794

Status : Answered

Chosen Option : 3

Q.24 Select the option that is related to the third number in the same way as the second number is related to the first number.

11 : 121 :: 17 : ?

- Ans
- 1. 256
  - 2. 289
  - 3. 305
  - 4. 360

Question ID : 65497832785  
Status : Answered  
Chosen Option : 2

Q.25 Six students, Anima, Rohit, Kiran, Seema, Jaya and Manish, are top six rank holders in a school. The rank of Rohit is between the ranks of Kiran and Seema. Rohit is at the fourth rank. There are two students between the ranks of Jaya and Seema. Jaya is at the lowest rank among all the six students. The rank of Manish is immediately above the rank of Anima.

Who is at the fifth rank?

- Ans
- 1. Seema
  - 2. Kiran
  - 3. Anima
  - 4. Manish

Question ID : 65497832784  
Status : Answered  
Chosen Option : 2

Section : Part B General Knowledge and General Awareness

Q.1 Which of the following conditions could harm coffee plantations?

- Ans
- 1. Loamy soil containing humus and minerals such as iron and calcium
  - 2. Hot and humid climate
  - 3. Rains at the time of ripening of the berries
  - 4. Rainfall between 150 and 250 cm

Question ID : 65497832831  
Status : Answered  
Chosen Option : 2

Q.2 FPI consists of securities and other financial assets passively held by foreign investors. What is the full form of FPI?

- Ans
- 1. Final Payment Investment
  - 2. Final Portfolio Investment
  - 3. Foreign Payment Investment
  - 4. Foreign Portfolio Investment

Question ID : 65497832815  
Status : Answered  
Chosen Option : 4

Q.3 Who is the author of the book, 'Walking with the comrades'?

- Ans  1. Arundhati Roy  
 2. Vikram Seth  
 3. Kiran Desai  
 4. Jhumpa Lahiri

Question ID : 65497832814  
Status : Answered  
Chosen Option : 4

Q.4 In September 2021, \_\_\_\_\_ became the first IAS officer to win a medal at the Paralympics.

- Ans  1. Nishad Kumar  
 2. Devendra Jhajharia  
 3. Singhraj Adhana  
 4. Suhas Yathiraj

Question ID : 65497832833  
Status : Answered  
Chosen Option : 2

Q.5 Under which of the following Schedules of the Indian Wildlife (Protection) Act, 1972 are the Gangetic Dolphins protected?

- Ans  1. Fifth Schedule  
 2. Seventh Schedule  
 3. Third Schedule  
 4. First Schedule

Question ID : 65497832827  
Status : Answered  
Chosen Option : 2

Q.6 A spring at Verinag is the source of \_\_\_\_\_ river in the northern part of India.

- Ans  1. Beas  
 2. Jhelum  
 3. Ravi  
 4. Chenab

Question ID : 65497832823  
Status : Answered  
Chosen Option : 3

Q.7 In which country or state of India is Tengboche Monastery located?

- Ans  1. Sikkim  
 2. Arunachal Pradesh  
 3. Bhutan  
 4. Nepal

Question ID : 65497832811  
Status : Answered  
Chosen Option : 2

Q.8 निम्नलिखित में से कौन सा पारिभाषिक शब्द उन प्रजातियों के लिए प्रयुक्त है जो स्थानीय आवास के प्राकृतिक आवासी नहीं हैं, लेकिन इस तंत्र में शामिल होते हैं?

- Ans
- 1. अजैव (Abiotic)
  - 2. जीवोम (Biome)
  - 3. स्थानिक (Endemic)
  - 4. विजातीय (Exotic)

Question ID : 65497832810  
Status : Answered  
Chosen Option : 4

Q.9 In which year was the Treaty of Bassein signed between Bajji Rao II, the Maratha Peshwa of Poona in India, and the British?

- Ans
- 1. 1820
  - 2. 1810
  - 3. 1802
  - 4. 1801

Question ID : 65497832820  
Status : Answered  
Chosen Option : 3

Q.10 Lieutenant General Gurmit Singh was appointed as the Governor of \_\_\_\_\_ in September 2021.

- Ans
- 1. Tamil Nadu
  - 2. Uttarakhand
  - 3. Punjab
  - 4. Nagaland

Question ID : 65497832832  
Status : Answered  
Chosen Option : 2

Q.11 What special name is given to the frictional force exerted by a fluid?

- Ans
- 1. Shear
  - 2. Surface tension
  - 3. Buoyancy
  - 4. Drag

Question ID : 65497832813  
Status : Answered  
Chosen Option : 4

Q.12 The tomb of Itmad-ud-Daula (or Itimad-Ud-Daulah) is situated in \_\_\_\_\_.

- Ans
- 1. Fatehpur Sikri
  - 2. Shahjahanabad
  - 3. Aurangabad
  - 4. Agra

Question ID : 65497832829  
Status : Answered  
Chosen Option : 4

Q.13 The last Nawab of Awadh was \_\_\_\_\_.

- Ans
- 1. Wajid Ali Shah
  - 2. Mir Jafar
  - 3. Alivardi Khan
  - 4. Mansur Ali Khan

Question ID : 65497832825  
Status : Answered  
Chosen Option : 2

Q.14 The Budget Division that prepares the Union Budget of India is a part of the Department of \_\_\_\_\_ under the Ministry of Finance.

- Ans
- 1. Investment and Public Asset Management
  - 2. Economic Affairs
  - 3. Financial Services
  - 4. Revenue

Question ID : 65497832830  
Status : Answered  
Chosen Option : 3

Q.15 Which fort is regarded as the first pillar of Maratha empire?

- Ans
- 1. Sindhudurg
  - 2. Rajgad
  - 3. Prachandagad
  - 4. Panhala

Question ID : 65497832826  
Status : Answered  
Chosen Option : 3

Q.16 Who was appointed as India's Ambassador to Cambodia in October 2020?

- Ans
- 1. K Nandini Singla
  - 2. Manika Jain
  - 3. Narinder Chauhan
  - 4. Devyani Uttam Khobragade

Question ID : 65497832822  
Status : Answered  
Chosen Option : 3

Q.17 Under which Amendment was Goa accorded the status of full-fledged state?

- Ans  1. 71st  
 2. 56th  
 3. 52nd  
 4. 61st

Question ID : 65497832821  
Status : Answered  
Chosen Option : 3

Q.18 Which of the following teams became the runner-up at IPL 2020?

- Ans  1. Sunrisers Hyderabad  
 2. Delhi Capitals  
 3. Royal Challengers Bangalore  
 4. Mumbai Indians

Question ID : 65497832809  
Status : Answered  
Chosen Option : 4

Q.19 How much funds were allocated for senior citizens and persons with disabilities in Union Budget 2020?

- Ans  1. ₹9,500 Cr  
 2. ₹10,000 Cr  
 3. ₹7,500 Cr  
 4. ₹8,500 Cr

Question ID : 65497832819  
Status : Answered  
Chosen Option : 3

Q.20 An inscription comprising ten large sized signs of Harappan script was found at:

- Ans  1. Banawali  
 2. Kot Diji  
 3. Dholavira  
 4. Kalibangan

Question ID : 65497832817  
Status : Answered  
Chosen Option : 3

Q.21 The 'International Satavadhanam' program, launched virtually by the Vice President in November 2020 is related to:

- Ans  1. Literature  
 2. Indian Navy  
 3. Food safety  
 4. Medicine

Question ID : 65497832818  
Status : Answered  
Chosen Option : 3

Q.22 Which of the following countries is the second largest steel producer in the world as per the World Steel Association (worldsteel) as of October 2020?

- Ans  1. Japan  
 2. China  
 3. Myanmar  
 4. India

Question ID : 65497832828  
Status : Answered  
Chosen Option : 4

Q.23 If  $n$  is the energy level index for an atom, then for the M shell,  $n$  is equal to:

- Ans  1. 1  
 2. 2  
 3. 4  
 4. 3

Question ID : 65497832812  
Status : Answered  
Chosen Option : 4

Q.24 Where was the National Badminton Championship 2019 held?

- Ans  1. Chandigarh  
 2. Lucknow  
 3. Guwahati  
 4. Indore

Question ID : 65497832824  
Status : Answered  
Chosen Option : 4

**Q.25** Which of the following diseases is caused by a virus transmitted primarily by *Aedes* mosquitoes?

- Ans
- 1. Tularemia
  - 2. Malaria
  - 3. Zika fever
  - 4. Minamata

Question ID : 65497832816  
Status : Answered  
Chosen Option : 2

Section : Part C Elementary Mathematics

**Q.1** A certain sum amounts to ₹17,925 in 3 years and to ₹21,825 in 7 years at the same rate per cent per annum at simple interest. What will be the simple interest (in ₹) on a sum of ₹18,500 for  $4\frac{2}{5}$  years at double the earlier rate?

- Ans
- 1. 10,582
  - 2. 8,245
  - 3. 9,876
  - 4. 7,625

Question ID : 65497832835  
Status : Answered  
Chosen Option : 1

**Q.2** When an article is sold for ₹242.50, there is a loss of 3%. What will be the selling price, if the article is sold at a gain of 13%?

- Ans
- 1. ₹275.80
  - 2. ₹282.50
  - 3. ₹270.40
  - 4. ₹300.60

Question ID : 65497832851  
Status : Answered  
Chosen Option : 2

**Q.3** The average of three numbers is 180. If the third number is greater by 10 than  $\frac{1}{3}$  of the first number and less by 5 than the second number, then the third number is:

- Ans
- 1. 103
  - 2. 113
  - 3. 118
  - 4. 115

Question ID : 65497832846  
Status : Answered  
Chosen Option : 2



**Q.4** A person can row a yacht along the stream at a speed of 9 km/h and against the stream at a speed of 7 km/h. The speed of the stream is:

- Ans**
- 1.  $\frac{3}{4}$  km/h
  - 2. 2 km/h
  - 3. 1.5 km/h
  - 4. 1 km/h

Question ID : 65497832850  
Status : Answered  
Chosen Option : 4

**Q.5** A shopkeeper sold  $\frac{1}{4}$  of his stock at a gain of 25%, and the remaining stock at a gain of 19%. His total percentage of gain was:

- Ans**
- 1. 12.9%
  - 2. 20.5%
  - 3. 18.7%
  - 4. 22.5%

Question ID : 65497832834  
Status : Answered  
Chosen Option : 2

**Q.6** A shoe company offers a discount of 25% and then a further discount of 42%. What is the final sale price (in ₹) of a pair of shoes costing ₹2,800?

- Ans**
- 1. 1,228
  - 2. 1,210
  - 3. 1,218
  - 4. 1,220

Question ID : 65497832855  
Status : Answered  
Chosen Option : 3

**Q.7** Find the value of  $[52 - 4 \text{ of } (17 - 12) + 4 \times 7] \div [30 \div 15 \times 5]$ .

- Ans**
- 1. 10
  - 2. 6
  - 3. 8
  - 4. 12

Question ID : 65497832842  
Status : Answered  
Chosen Option : 2

Q.8 A vendor bought candies at 12 for ₹20 and sold them at 6 for ₹12. Find his percentage gain or loss.

- Ans
- 1. 20% gain
  - 2. 30% loss
  - 3. 15% gain
  - 4. 25% loss

Question ID : 65497832853  
Status : Answered  
Chosen Option : 1

Q.9 The average of ten consecutive odd numbers is 46. The average of smallest and the greatest number is:

- Ans
- 1. 46
  - 2. 50
  - 3. 54
  - 4. 38

Question ID : 65497832837  
Status : Answered  
Chosen Option : 1

Q.10 Find the value of  $5 \div [6 \text{ of } 2 + (3 \times 7 \div (5 \text{ of } 3))]$ .

- Ans
- 1.  $\frac{17}{25}$
  - 2.  $\frac{67}{15}$
  - 3.  $\frac{25}{67}$
  - 4.  $\frac{67}{5}$

Question ID : 65497832852  
Status : Answered  
Chosen Option : 3

Q.11 A sum at a certain rate of simple interest becomes ₹37,200 after 3 years and ₹42,000 after 5 years. Find the simple interest (in ₹) on the same sum at 6% per annum for 8 years.

- Ans
- 1. 14,000
  - 2. 14,750
  - 3. 14,400
  - 4. 14,260

Question ID : 65497832857  
Status : Answered  
Chosen Option : 3

**Q.12** If P can complete  $\frac{1}{3}$  of a work in 6 days and Q can complete  $\frac{1}{4}$  of the same work in 9 days, how much will Q get if both work together and are paid in advance ₹210 in all?

- Ans**
- 1. ₹140
  - 2. ₹95
  - 3. ₹70
  - 4. ₹105

Question ID : 65497832854  
Status : Answered  
Chosen Option : 1

**Q.13** Two numbers are in the ratio of 3 : 4. If 60% of the first number is 144, then 30% of the second number will be:

- Ans**
- 1. 120
  - 2. 69
  - 3. 96
  - 4. 92

Question ID : 65497832848  
Status : Answered  
Chosen Option : 3

**Q.14** If  $\frac{a}{b} : \frac{7}{5}$ , then what will be the value of  $\frac{(5a+4b)}{5a-4b}$ ?

- Ans**
- 1.  $\frac{3}{11}$
  - 2.  $\frac{7}{8}$
  - 3.  $\frac{11}{3}$
  - 4.  $\frac{5}{7}$

Question ID : 65497832840  
Status : Answered  
Chosen Option : 3

**Q.15** A man goes to his office from his house at a speed of 4 km/h and returns at a speed of 2 km/h. If he takes 6 hours in going and coming, what is the distance between his house and office?

- Ans**
- 1. 4 km
  - 2. 6 km
  - 3. 8 km
  - 4. 8.5 km

Question ID : 65497832843  
Status : Answered  
Chosen Option : 3

**Q.16** Two numbers are 8% and 28%, respectively, more than a third number. What is the ratio between the two numbers?

- Ans**
- 1. 5 : 9
  - 2. 5 : 6
  - 3. 27 : 32
  - 4. 2 : 7

Question ID : 65497832856  
Status : Answered  
Chosen Option : 3

**Q.17** If X and Y together can complete a work in 10 days, Y and Z can complete the work in 12 days, and Z and X can complete the work in 15 days, then X alone will complete the work in:

- Ans**
- 1. 28 days
  - 2. 20 days
  - 3. 30 days
  - 4. 24 days

Question ID : 65497832849  
Status : Answered  
Chosen Option : 4

**Q.18** A sum of ₹  $x$  is divided between A, B and C such that the ratio of shares of A and B is 3 : 5 and that of B and C is 4 : 7. If the difference between the shares of B and C is ₹1,455, then the value of  $x$  is:

- Ans**
- 1. ₹6,944
  - 2. ₹3,395
  - 3. ₹6,499
  - 4. ₹5,335

Question ID : 65497832838  
Status : Answered  
Chosen Option : 3

**Q.19** A conical cavity is drilled in a solid right circular cylinder of 6 cm height and 16 cm base diameter. The height and the base diameter of the cone are the same as those of the cylinder. Determine total surface area of the remaining solid?

- Ans**
- 1.  $440 \pi \text{ cm}^2$
  - 2.  $220 \pi \text{ cm}^2$
  - 3.  $240 \pi \text{ cm}^2$
  - 4.  $210 \pi \text{ cm}^2$

Question ID : 65497832841  
Status : Answered  
Chosen Option : 3

**Q.20** Divide ₹12,100 into 2 parts such that when these are invested for 3 and 4 years, respectively, at the rate of 6 % per annum simple interest, the amounts received are equal. What is 75% of the difference between the two parts (in ₹)?

- Ans**
- 1. 300
  - 2. 225
  - 3. 400
  - 4. 200

Question ID : 65497832839  
Status : Answered  
Chosen Option : 2

**Q.21** A shopkeeper bought 600 oranges and 400 bananas. He found that 30% of oranges and 18% of bananas were rotten. Find the percentage of the fruits in good condition.

- Ans**
- 1. 70.8
  - 2. 64.8
  - 3. 74.8
  - 4. 78.8

Question ID : 65497832845  
Status : Answered  
Chosen Option : 3

**Q.22** A metallic slab having dimensions  $16\text{ cm} \times 12\text{ cm} \times 9\text{ cm}$  is melted and recast in the shape of a cube. What is the surface area (in  $\text{cm}^2$ ) of the cube?

- Ans**
- 1. 865
  - 2. 860
  - 3. 880
  - 4. 864

Question ID : 65497832858  
Status : Answered  
Chosen Option : 4

**Q.23** The sum of two numbers is 342 and their HCF is 19. How many pairs of such numbers can be formed?

- Ans**
- 1. 3
  - 2. 2
  - 3. 4
  - 4. 6

Question ID : 65497832836  
Status : Answered  
Chosen Option : 1

**Q.24** A shopkeeper offers 25% discount on the Marked Price. Another shopkeeper offers three successive discounts of 5%, 12% and 10% on the same Marked Price. The difference between the discounts given by two shopkeepers is:

- Ans
- 1. 1.12%
  - 2. 0.24%
  - 3. 2.00%
  - 4. 1.00%

Question ID : 65497832847  
Status : Answered  
Chosen Option : 2

**Q.25** There is a number greater than 1 which when divided by 4, 5 and 6 leaves the same remainder 3 in each case. Find the largest number, smaller than 500 which satisfies the given condition.

- Ans
- 1. 493
  - 2. 484
  - 3. 483
  - 4. 486

Question ID : 65497832844  
Status : Answered  
Chosen Option : 3

Section : Part D English

**Q.1** Select the most appropriate option that can substitute the underlined segment in the given sentence. If there is no need to substitute it, select 'No substitution required'.

Are you get irritated if someone disturbs you?

- Ans
- 1. Do you get irritated
  - 2. No substitution required
  - 3. Are you get irritate
  - 4. Did you getting irritating

Question ID : 65497832874  
Status : Answered  
Chosen Option : 1

**Q.2** Select the most appropriate option to fill in the blank.

It is essential to understand consumer behaviour so that protective \_\_\_\_\_ can be taken through legislation.

- Ans
- 1. methods
  - 2. events
  - 3. measures
  - 4. dealings

Question ID : 65497832863  
Status : Answered  
Chosen Option : 3

Q.3 Select the most appropriate SYNONYM of the given word.

Supreme

- Ans  1. Endless  
 2. Matchless  
 3. Careless  
 4. Useless

Question ID : 65497832876  
Status : Answered  
Chosen Option : 2

Q.4 Select the most appropriate meaning of the given idiom.

All and sundry

- Ans  1. None  
 2. Everywhere  
 3. Very few  
 4. Everyone

Question ID : 65497832869  
Status : Answered  
Chosen Option : 4

Q.5 Select the most appropriate ANTONYM of the given word.

Beseech

- Ans  1. Command  
 2. Appeal  
 3. Request  
 4. Engage

Question ID : 65497832866  
Status : Answered  
Chosen Option : 4

Q.6 Select the most appropriate ANTONYM of the given word.

Ravish

- Ans  1. Captivate  
 2. Attract  
 3. Repel  
 4. Charm

Question ID : 65497832871  
Status : Answered  
Chosen Option : 4

Q.7 Select the option that can be used as a one-word substitute for the given group of words.

Something that can be carried easily

- Ans  1. Portable  
 2. Transferable  
 3. Deliverable  
 4. Plausible

Question ID : 65497832867  
Status : Answered  
Chosen Option : 1

Q.8 Select the INCORRECTLY spelt word.

- Ans  1. Infectious  
 2. Valuable  
 3. Specieal  
 4. Precious

Question ID : 65497832862  
Status : Answered  
Chosen Option : 3

Q.9 Select the most appropriate option to fill in the blank.

After hours of discussion, the team \_\_\_\_\_ at the same conclusion.

- Ans  1. came  
 2. arrived  
 3. reached  
 4. attained

Question ID : 65497832872  
Status : Answered  
Chosen Option : 2

Q.10 Select the most appropriate option that can substitute the underlined word in the given sentence.

The bacteria in the roots of leguminous plants submerge nitrogen in the soil to compounds.

- Ans  1. propose  
 2. expand  
 3. convert  
 4. analyse

Question ID : 65497832859  
Status : Answered  
Chosen Option : 3



Q.11 The following sentence has been split into four segments. Identify the segment that contains a grammatical error.

I have been / reading this book / since / two days.

- Ans
- 1. two days
  - 2. since
  - 3. I have been
  - 4. reading this book

Question ID : 65497832865  
Status : Answered  
Chosen Option : 2

Q.12 Select the option that can be used as a one-word substitute for the given group of words.

One who can use either hand easily

- Ans
- 1. Skilled
  - 2. Disabled
  - 3. Single-handed
  - 4. Ambidextrous

Question ID : 65497832864  
Status : Answered  
Chosen Option : 4

Q.13 Select the most appropriate synonym of the given word.

Lure

- Ans
- 1. Attraction
  - 2. Warning
  - 3. Repulsion
  - 4. Indication

Question ID : 65497832861  
Status : Answered  
Chosen Option : 1

Q.14 The following sentence has been divided into parts. One of them may contain an error. Select the part that contains the error from the given options. If you don't find any error, select 'No error' as your answer.

Praneel is only two now / so he has not / started talk yet.

- Ans
- 1. started talk yet
  - 2. Praneel is only two now
  - 3. so he has not
  - 4. No error

Question ID : 65497832860  
Status : Answered  
Chosen Option : 1

Q.15 Select the most appropriate meaning of the given idiom.

Hold your horses

- Ans
- 1. Run fast
  - 2. Make a profit
  - 3. Be patient
  - 4. Take control

Question ID : 65497832878  
Status : Answered  
Chosen Option : 3

Q.16 The following sentence has been split into four segments. Identify the segment that contains a grammatical error.

Did the police find out who break into your store?

- Ans
- 1. your store
  - 2. who break into
  - 3. Did the police
  - 4. find out

Question ID : 65497832875  
Status : Answered  
Chosen Option : 4

Q.17 Select the most appropriate option to fill in the blank.

He \_\_\_\_\_ her that he had deposited the money in the bank.

- Ans
- 1. assumed
  - 2. ensured
  - 3. assured
  - 4. insured

Question ID : 65497832870  
Status : Answered  
Chosen Option : 2

Q.18 Select the most appropriate option that can substitute the underlined segment in the given sentence. If there is no need to substitute it, select 'No substitution required'.

The shopkeeper either offered to exchange the goods or refund the money.

- Ans
- 1. The shopkeeper offered either to
  - 2. No substitution required'
  - 3. The shopkeeper neither offered to
  - 4. Either the shopkeeper offered to

Question ID : 65497832873  
Status : Answered  
Chosen Option : 1

**Q.19** Select the option that can be used as a one-word substitute for the given group of words.

A piece of land entirely surrounded by water

- Ans
- 1. Igloo
  - 2. Harbour
  - 3. Island
  - 4. Oasis

Question ID : 65497832877  
Status : Answered  
Chosen Option : 3

**Q.20** Select the INCORRECTLY spelt word.

- Ans
- 1. Estimation
  - 2. Substitution
  - 3. Habbitation
  - 4. Presentation

Question ID : 65497832868  
Status : Answered  
Chosen Option : 3

**Comprehension:**

In the following passage, some words have been deleted. Read the passage carefully and select the most appropriate option to fill in each blank.

The plane had been hired to transport Appu, the baby elephant, as a gift from India to Nigeria. Just before the (1) \_\_\_\_\_, the co-pilot checked the wooden crate and (2) \_\_\_\_\_ that it looked safe. Little did he know how (3) \_\_\_\_\_ the flight was going to be. When the plane was (4) \_\_\_\_\_ Kenya, Appu broke his crate and (5) \_\_\_\_\_ the flight cabin. The pilot made an emergency landing in Kenya.

**SubQuestion No : 21**

**Q.21** Select the most appropriate option to fill in blank no.1.

- Ans
- 1. departure
  - 2. escape
  - 3. retreat
  - 4. evacuation

Question ID : 65497832880  
Status : Answered  
Chosen Option : 1

**Comprehension:**

In the following passage, some words have been deleted. Read the passage carefully and select the most appropriate option to fill in each blank.

The plane had been hired to transport Appu, the baby elephant, as a gift from India to Nigeria. Just before the (1) \_\_\_\_\_, the co-pilot checked the wooden crate and (2) \_\_\_\_\_ that it looked safe. Little did he know how (3) \_\_\_\_\_ the flight was going to be. When the plane was (4) \_\_\_\_\_ Kenya, Appu broke his crate and (5) \_\_\_\_\_ the flight cabin. The pilot made an emergency landing in Kenya.

**SubQuestion No : 22**

**Q.22 Select the most appropriate option to fill in blank no.2.**

- Ans  1. described  
 2. recited  
 3. reported  
 4. narrated

Question ID : 65497832881

Status : Answered

Chosen Option : 3

**Comprehension:**

In the following passage, some words have been deleted. Read the passage carefully and select the most appropriate option to fill in each blank.

The plane had been hired to transport Appu, the baby elephant, as a gift from India to Nigeria. Just before the (1) \_\_\_\_\_, the co-pilot checked the wooden crate and (2) \_\_\_\_\_ that it looked safe. Little did he know how (3) \_\_\_\_\_ the flight was going to be. When the plane was (4) \_\_\_\_\_ Kenya, Appu broke his crate and (5) \_\_\_\_\_ the flight cabin. The pilot made an emergency landing in Kenya.

**SubQuestion No : 23**

**Q.23 Select the most appropriate option to fill in blank no.3.**

- Ans  1. impressive  
 2. unreliable  
 3. devious  
 4. dramatic

Question ID : 65497832882

Status : Answered

Chosen Option : 4

**Comprehension:**

In the following passage, some words have been deleted. Read the passage carefully and select the most appropriate option to fill in each blank.

The plane had been hired to transport Appu, the baby elephant, as a gift from India to Nigeria. Just before the (1) \_\_\_\_\_, the co-pilot checked the wooden crate and (2) \_\_\_\_\_ that it looked safe. Little did he know how (3) \_\_\_\_\_ the flight was going to be. When the plane was (4) \_\_\_\_\_ Kenya, Appu broke his crate and (5) \_\_\_\_\_ the flight cabin. The pilot made an emergency landing in Kenya.

**SubQuestion No : 24****Q.24 Select the most appropriate option to fill in blank no.4.**

- Ans  1. on  
 2. between  
 3. over  
 4. beside

Question ID : 65497832883

Status : Answered

Chosen Option : 3

**Comprehension:**

In the following passage, some words have been deleted. Read the passage carefully and select the most appropriate option to fill in each blank.

The plane had been hired to transport Appu, the baby elephant, as a gift from India to Nigeria. Just before the (1) \_\_\_\_\_, the co-pilot checked the wooden crate and (2) \_\_\_\_\_ that it looked safe. Little did he know how (3) \_\_\_\_\_ the flight was going to be. When the plane was (4) \_\_\_\_\_ Kenya, Appu broke his crate and (5) \_\_\_\_\_ the flight cabin. The pilot made an emergency landing in Kenya.

**SubQuestion No : 25****Q.25 Select the most appropriate option to fill in blank no.5.**

- Ans  1. entered  
 2. chased  
 3. shared  
 4. grabbed

Question ID : 65497832884

Status : Answered

Chosen Option : 1

## Section : Part D Hindi

Q.1 दिए गए वाक्य में रेखांकित खंड को प्रतिस्थापित करने के लिए सबसे उपयुक्त विकल्प का चयन करें। यदि इसे प्रतिस्थापित करने की आवश्यकता नहीं है, तो विकल्प 'किसी बदलाव की आवश्यकता नहीं है' का चयन करें।

हम भोजन खाते हैं।

- Ans  1. किसी बदलाव की आवश्यकता नहीं है।  
 2. करते हैं  
 3. लेते हैं  
 4. पाते हैं

Question ID : 65497832894

Status : Not Answered

Chosen Option : --

Q.2 दिए गए वाक्य में रेखांकित खंड को प्रतिस्थापित करने के लिए सबसे उपयुक्त विकल्प का चयन करें। यदि इसे प्रतिस्थापित करने की आवश्यकता नहीं है, तो विकल्प 'किसी बदलाव की आवश्यकता नहीं है' का चयन करें।

सब लोग अपनी राय दें।

- Ans
- 1. इनकी
  - 2. उनकी
  - 3. अपनी-अपनी
  - 4. किसी बदलाव की आवश्यकता नहीं है।

Question ID : 65497832896  
Status : Not Answered  
Chosen Option : --

Q.3 'जलाशय' का पर्यायवाची है-

- Ans
- 1. महीधर
  - 2. रत्नाकर
  - 3. पद्माकर
  - 4. जलधर

Question ID : 65497832898  
Status : Not Answered  
Chosen Option : --

Q.4 दिए गए वाक्य का वह भाग ज्ञात करें जिसमें कोई त्रुटि है। यदि कोई त्रुटि नहीं है, तो 'कोई त्रुटि नहीं है' चुनें।

स्कूल का सभी विद्यार्थी (1)\ इस मैदान में (2)\ प्रार्थना के लिए आते है (3)\ कोई त्रुटि नहीं है (4)

- Ans
- 1. 1
  - 2. 4
  - 3. 2
  - 4. 3

Question ID : 65497832885  
Status : Not Answered  
Chosen Option : --

Q.5 मधुर बात करनेवाला - वाक्यांश के लिए एक शब्द लिखिए-

- Ans
- 1. मधुर भाषी
  - 2. अल्पभाषी
  - 3. संगीतज्ञ
  - 4. सुखद

Question ID : 65497832899  
Status : Not Answered  
Chosen Option : --

Q.6 दिए गए वाक्य में रेखांकित खंड को प्रतिस्थापित करने के लिए सबसे उपयुक्त विकल्प का चयन करें। यदि इसे प्रतिस्थापित करने की आवश्यकता नहीं है, तो विकल्प 'किसी बदलाव की आवश्यकता नहीं है' का चयन करें।

आपसे मेरा सविनयपूर्वक निवेदन है।

- Ans
- 1. किसी बदलाव की आवश्यकता नहीं है।
  - 2. सविनय निवेदन है
  - 3. विनम्रपूर्वक निवेदन है
  - 4. समग्रपूर्वक अनुरोध है

Question ID : 65497832895  
Status : Not Answered  
Chosen Option : --

Q.7 रिक्त स्थान की पूर्ति के लिए सबसे उपयुक्त विकल्प का चयन करें।

शेखर अज्ञेय के एक उपन्यास का \_\_\_\_\_ है।

- Ans
- 1. अभिनेता
  - 2. नेता
  - 3. नायक
  - 4. सूत्रधार

Question ID : 65497832904  
Status : Not Answered  
Chosen Option : --

Q.8 दिए गए शब्द का विलोम चुनें।

प्रत्यक्ष

- Ans
- 1. परोक्ष
  - 2. अभिमुख
  - 3. सम्मुख
  - 4. समीप

Question ID : 65497832891  
Status : Not Answered  
Chosen Option : --

Q.9 उसका पास कुछ भी नहीं है।

रेखांकित शब्द की अशुद्धि पहचानिए-

- Ans
- 1. विभक्ति के कारण
  - 2. सर्वनाम के कारण
  - 3. कोई भी गलती नहीं है।
  - 4. संज्ञा के कारण

Question ID : 65497832900  
Status : Not Answered  
Chosen Option : --

Q.10 दिए गए शब्द का समानार्थी शब्द बताइए-

कपड़ा

- Ans
- 1. वज़न
  - 2. वमन
  - 3. वसन
  - 4. वपन

Question ID : 65497832886  
Status : Not Answered  
Chosen Option : --

Q.11 उस विकल्प का चयन करें जो निम्न मुहावरे का सही अर्थ व्यक्त करता है।

भगीरथ श्रम करना

- Ans
- 1. अथक प्रयत्न करना
  - 2. दृढ़ प्रतीज्ञा करना
  - 3. असम्भव कार्य करना
  - 4. कठिन श्रम करना

Question ID : 65497832892  
Status : Not Answered  
Chosen Option : --

Q.12 राह दिखानेवाला - वाक्यांश के लिए एक शब्द लिखिए।

- Ans
- 1. राही
  - 2. पथदर्शक
  - 3. मुसाफिर
  - 4. पथिक

Question ID : 65497832902  
Status : Not Answered  
Chosen Option : --

Q.13 उत्थान - रेखांकित शब्द का विलोम बताइए-

- Ans
- 1. आदर्श
  - 2. प्रगति
  - 3. पतन
  - 4. विकर्षण

Question ID : 65497832901  
Status : Not Answered  
Chosen Option : --



Q.14 'रास्ता देखना' मुहावरे का सही अर्थ है-

- Ans  1. मूल्यांकन करना  
 2. प्रतीक्षा करना  
 3. निराश होना  
 4. परेशान होना

Question ID : 65497832903  
Status : Not Answered  
Chosen Option : --

Q.15 सही वर्तनी वाले शब्द का चयन करें।

- Ans  1. आत्मोत्सग  
 2. आत्मोत्सर्ग  
 3. आत्मोतसर्ग  
 4. आत्मौत्सर्ग

Question ID : 65497832889  
Status : Not Answered  
Chosen Option : --

Q.16 दिये गये वाक्य के किस भाग में त्रुटि है?

मैं उसकी बुद्धिमानता से बहुत प्रभावित हूँ।

- Ans  1. प्रभावित हूँ।  
 2. मैं उसकी  
 3. बुद्धिमानता  
 4. से बहुत

Question ID : 65497832897  
Status : Not Answered  
Chosen Option : --

Q.17 रिक्त स्थान की पूर्ति के लिए सबसे उपयुक्त शब्द का चयन करें।

मेरा और आपका \_\_\_\_\_ सम्बन्ध है।

- Ans  1. पक्का  
 2. गहन  
 3. घोर  
 4. घनिष्ठ

Question ID : 65497832893  
Status : Not Answered  
Chosen Option : --

Q.18 दिए गये वाक्यांश के लिए एक शब्द दीजिये-

जो बहुत बोलता हो

- Ans 1. वाचाल
2. बहुभाषी
3. मितभाषी
4. अल्पभाषी

Question ID : 65497832887  
Status : Not Answered  
Chosen Option : --

Q.19 सही वर्तनी वाले शब्द का चयन करें।

- Ans 1. एकाग्रचित
2. एकाग्रचित
3. एकाग्रचित
4. एकाग्रचित

Question ID : 65497832888  
Status : Not Answered  
Chosen Option : --

Q.20 रिक्त स्थान की पूर्ति के लिए सबसे उपयुक्त शब्द का चयन करें-

उसका हृदय बड़ा \_\_\_\_\_ था।

- Ans  1. कठोर
2. कठिन
3. कर्कश
4. कसैला

Question ID : 65497832890  
Status : Not Answered  
Chosen Option : --

**Comprehension:**

गद्यांश को पढ़कर पूछे गये प्रश्नों के उत्तर लिखिए-

भारत के इतिहास में अमरत्व प्राप्ति के अधिकारी लौह-पुरुष सरदार वल्लभभाई पटेल को कौन नहीं जानता? 31 अक्टूबर, 1875 में गुजरात के नाडियाद गाँव में एक किसान परिवार में उनका जन्म हुआ था। पाठशाला का अभ्यास करने में काफी समय लगा था। 36 साल की उम्र में वकालत पढ़ने के लिए वे इंग्लैंड गए। उन्होंने 36 महीने का कोर्स 30 महीनों में पूरा किया। 1917 में वे गांधीजी के संपर्क में आए। ब्रिटिश राज्य के खिलाफ अहिंसक आंदोलन के जरिये बारदोली, बलसाड, खेड़ा आदि के किसानों को एकत्र किया। उनके इस आंदोलन ने उन्हें प्रसिद्धि एवं प्रतिष्ठा दिलाई। भारतीय राष्ट्रीय कांग्रेस ने प्रमुख स्थान दिया। लोगों ने उन्हें सरदार की उपाधि दी। आजादी के बाद छोटी-छोटी रियायतों को एक करने का कार्य किया। 15 अगस्त, 1947 तक हैदराबाद, कश्मीर और जूनागढ़ को छोड़कर सभी रियायतें भारत संघ में सम्मिलित हो गई थीं। गृहमंत्री बनने के बाद लगभग छः सौ रियायतों को भारत संघ में सम्मिलित किया। हैदराबाद के नवाब ने विरोध किया तो वहाँ सेना भेजकर निजाम को आत्मसमर्पण करने के लिए मजबूर किया। 15 दिसम्बर, 1950 को जगमगता वह सितारा हमें अंधकार में छोड़कर चला गया। सन् 1991 में उन्हें भारतरत्न से सम्मानित किया गया। स्वतंत्रता सेनानी सरदार वल्लभभाई की जीवनी सदैव प्रेरणादायी है।

**SubQuestion No : 21**

Q.21 \_\_\_\_\_ को लौहपुरुष कहा जाता है।

- Ans  1. लाला लजपतराय  
 2. सरदार वल्लभभाई पटेल  
 3. मोरारजी देसाई  
 4. अटल बिहारी वाजपेयी

Question ID : 65497832906

Status : Not Answered

Chosen Option : --

**Comprehension:**

गद्यांश को पढ़कर पूछे गये प्रश्नों के उत्तर लिखिए-

भारत के इतिहास में अमरत्व प्राप्ति के अधिकारी लौह-पुरुष सरदार वल्लभभाई पटेल को कौन नहीं जानता? 31 अक्टूबर, 1875 में गुजरात के नाडियाद गाँव में एक किसान परिवार में उनका जन्म हुआ था। पाठशाला का अभ्यास करने में काफी समय लगा था। 36 साल की उम्र में वकालत पढ़ने के लिए वे इंग्लैंड गए। उन्होंने 36 महीने का कोर्स 30 महीनों में पूरा किया। 1917 में वे गांधीजी के संपर्क में आए। ब्रिटिश राज्य के खिलाफ अहिंसक आंदोलन के जरिये बारदोली, बलसाड, खेड़ा आदि के किसानों को एकत्र किया। उनके इस आंदोलन ने उन्हें प्रसिद्धि एवं प्रतिष्ठा दिलाई। भारतीय राष्ट्रीय कांग्रेस ने प्रमुख स्थान दिया। लोगों ने उन्हें सरदार की उपाधि दी। आजादी के बाद छोटी-छोटी रियायतों को एक करने का कार्य किया। 15 अगस्त, 1947 तक हैदराबाद, कश्मीर और जूनागढ़ को छोड़कर सभी रियायतें भारत संघ में सम्मिलित हो गई थीं। गृहमंत्री बनने के बाद लगभग छः सौ रियायतों को भारत संघ में सम्मिलित किया। हैदराबाद के नवाब ने विरोध किया तो वहाँ सेना भेजकर निजाम को आत्मसमर्पण करने के लिए मजबूर किया। 15 दिसम्बर, 1950 को जगमगता वह सितारा हमें अंधकार में छोड़कर चला गया। सन् 1991 में उन्हें भारतरत्न से सम्मानित किया गया। स्वतंत्रता सेनानी सरदार वल्लभभाई की जीवनी सदैव प्रेरणादायी है।

**SubQuestion No : 22**

Q.22 वकालत शब्द को व्याकरणिक दृष्टि से पहचानिए-

- Ans  1. विशेषण  
 2. व्यक्तिवाचक संज्ञा  
 3. जातिवाचक संज्ञा  
 4. भाववाचक संज्ञा

Question ID : 65497832907

Status : Not Answered

Chosen Option : --

**Comprehension:**

गद्यांश को पढ़कर पूछे गये प्रश्नों के उत्तर लिखिए-

भारत के इतिहास में अमरत्व प्राप्ति के अधिकारी लौह-पुरुष सरदार वल्लभभाई पटेल को कौन नहीं जानता? 31 अक्टूबर, 1875 में गुजरात के नाडियाद गाँव में एक किसान परिवार में उनका जन्म हुआ था। पाठशाला का अभ्यास करने में काफी समय लगा था। 36 साल की उम्र में वकालत पढ़ने के लिए वे इंग्लैंड गए। उन्होंने 36 महीने का कोर्स 30 महीनों में पूरा किया। 1917 में वे गांधीजी के संपर्क में आए। ब्रिटिश राज्य के खिलाफ अहिंसक आंदोलन के जरिये बारदोली, बलसाड, खेड़ा आदि के किसानों को एकत्र किया। उनके इस आंदोलन ने उन्हें प्रसिद्धि एवं प्रतिष्ठा दिलाई। भारतीय राष्ट्रीय कांग्रेस ने प्रमुख स्थान दिया। लोगों ने उन्हें सरदार की उपाधि दी। आजादी के बाद छोटी-छोटी रियायतों को एक करने का कार्य किया। 15 अगस्त, 1947 तक हैदराबाद, कश्मीर और जूनागढ़ को छोड़कर सभी रियायतें भारत संघ में सम्मिलित हो गई थीं। गृहमंत्री बनने के बाद लगभग छः सौ रियायतों को भारत संघ में सम्मिलित किया। हैदराबाद के नवाब ने विरोध किया तो वहाँ सेना भेजकर निजाम को आत्मसमर्पण करने के लिए मजबूर किया। 15 दिसम्बर, 1950 को जगमगता वह सितारा हमें अंधकार में छोड़कर चला गया। सन् 1991 में उन्हें भारतरत्न से सम्मानित किया गया। स्वतंत्रता सेनानी सरदार वल्लभभाई की जीवनी सदैव प्रेरणादायी है।

**SubQuestion No : 23**

Q.23 आजादी के बाद उन्होंने कौन-सा पद संभाला?

- Ans
- 1. प्रधानमंत्री का
  - 2. राष्ट्रपति का
  - 3. गृहमंत्री का
  - 4. संरक्षण मंत्री का

Question ID : 65497832908

Status : Not Answered

Chosen Option : --

**Comprehension:**

गद्यांश को पढ़कर पूछे गये प्रश्नों के उत्तर लिखिए-

भारत के इतिहास में अमरत्व प्राप्ति के अधिकारी लौह-पुरुष सरदार वल्लभभाई पटेल को कौन नहीं जानता? 31 अक्टूबर, 1875 में गुजरात के नाडियाद गाँव में एक किसान परिवार में उनका जन्म हुआ था। पाठशाला का अभ्यास करने में काफी समय लगा था। 36 साल की उम्र में वकालत पढ़ने के लिए वे इंग्लैंड गए। उन्होंने 36 महीने का कोर्स 30 महीनों में पूरा किया। 1917 में वे गांधीजी के संपर्क में आए। ब्रिटिश राज्य के खिलाफ अहिंसक आंदोलन के जरिये बारदोली, बलसाड, खेड़ा आदि के किसानों को एकत्र किया। उनके इस आंदोलन ने उन्हें प्रसिद्धि एवं प्रतिष्ठा दिलाई। भारतीय राष्ट्रीय कांग्रेस ने प्रमुख स्थान दिया। लोगों ने उन्हें सरदार की उपाधि दी। आजादी के बाद छोटी-छोटी रियायतों को एक करने का कार्य किया। 15 अगस्त, 1947 तक हैदराबाद, कश्मीर और जूनागढ़ को छोड़कर सभी रियायतें भारत संघ में सम्मिलित हो गई थीं। गृहमंत्री बनने के बाद लगभग छः सौ रियायतों को भारत संघ में सम्मिलित किया। हैदराबाद के नवाब ने विरोध किया तो वहाँ सेना भेजकर निजाम को आत्मसमर्पण करने के लिए मजबूर किया। 15 दिसम्बर, 1950 को जगमगता वह सितारा हमें अंधकार में छोड़कर चला गया। सन् 1991 में उन्हें भारतरत्न से सम्मानित किया गया। स्वतंत्रता सेनानी सरदार वल्लभभाई की जीवनी सदैव प्रेरणादायी है।

**SubQuestion No : 24**

Q.24 उनका जन्म \_\_\_\_\_ हुआ था।

- Ans
- 1. मुस्लिम परिवार में
  - 2. ब्राह्मण परिवार में
  - 3. पारसी परिवार में
  - 4. किसान परिवार में

Question ID : 65497832909

Status : Not Answered

Chosen Option : --

**Comprehension:**

गद्यांश को पढ़कर पूछे गये प्रश्नों के उत्तर लिखिए-

भारत के इतिहास में अमरत्व प्राप्ति के अधिकारी लौह-पुरुष सरदार वल्लभभाई पटेल को कौन नहीं जानता? 31 अक्टूबर, 1875 में गुजरात के नाडियाद गाँव में एक किसान परिवार में उनका जन्म हुआ था। पाठशाला का अभ्यास करने में काफी समय लगा था। 36 साल की उम्र में वकालत पढ़ने के लिए वे इंग्लैंड गए। उन्होंने 36 महीने का कोर्स 30 महीनों में पूरा किया। 1917 में वे गांधीजी के संपर्क में आए। ब्रिटिश राज्य के खिलाफ अहिंसक आंदोलन के जरिये बारदोली, बलसाड, खेड़ा आदि के किसानों को एकत्र किया। उनके इस आंदोलन ने उन्हें प्रसिद्धि एवं प्रतिष्ठा दिलाई। भारतीय राष्ट्रीय कांग्रेस ने प्रमुख स्थान दिया। लोगों ने उन्हें सरदार की उपाधि दी। आजादी के बाद छोटी-छोटी रियायतों को एक करने का कार्य किया। 15 अगस्त, 1947 तक हैदराबाद, कश्मीर और जूनागढ़ को छोड़कर सभी रियायतें भारत संघ में सम्मिलित हो गई थीं। गृहमंत्री बनने के बाद लगभग छः सौ रियायतों को भारत संघ में सम्मिलित किया। हैदराबाद के नवाब ने विरोध किया तो वहाँ सेना भेजकर निजाम को आत्मसमर्पण करने के लिए मजबूर किया। 15 दिसम्बर, 1950 को जगमगता वह सितारा हमें अंधकार में छोड़कर चला गया। सन् 1991 में उन्हें भारतरत्न से सम्मानित किया गया। स्वतंत्रता सेनानी सरदार वल्लभभाई की जीवनी सदैव प्रेरणादायी है।

**SubQuestion No : 25**

Q.25 उनकी मृत्यु \_\_\_\_\_ को हुई।

Ans  1. 15 दिसम्बर, 1950

2. 31 दिसम्बर, 1950

3. 25 दिसम्बर, 1950

4. 15 अक्टूबर, 1875

Question ID : 65497832910

Status : Not Answered

Chosen Option : --